

令和8年度 入学試験問題

社 会

九州国際大学附属中学校

【注意事項】

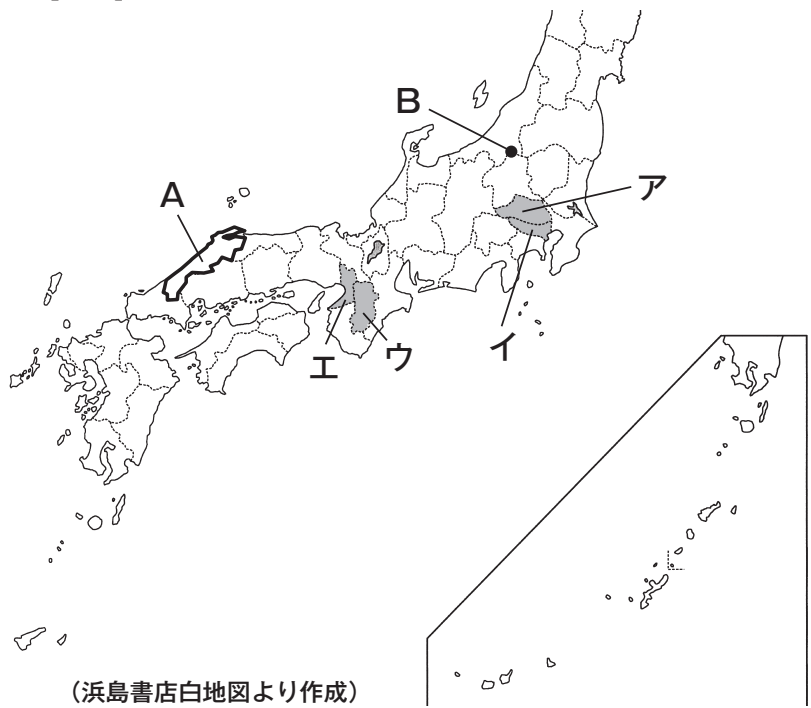
- 1 開始合図のチャイムが鳴るまで、この問題用紙の中を見てはいけません。
- 2 開始合図のチャイムが鳴ったら、最初に解答用紙と問題用紙に受験番号・氏名を書きなさい。
- 3 試験時間は30分です。
- 4 解答はすべて、問題の指示にしたがって解答用紙に記入しなさい。
- 5 問題用紙で、印刷がはっきりしないところがあったら、静かに手をあげなさい。
- 6 答案ができあがっても、終了合図のチャイムが鳴るまで静かに着席していなさい。

受験 番号				氏 名	
----------	--	--	--	--------	--


1 次の問いに答えなさい。

(A) 次の地図を見て、あとの問いに答えなさい。

【地図】

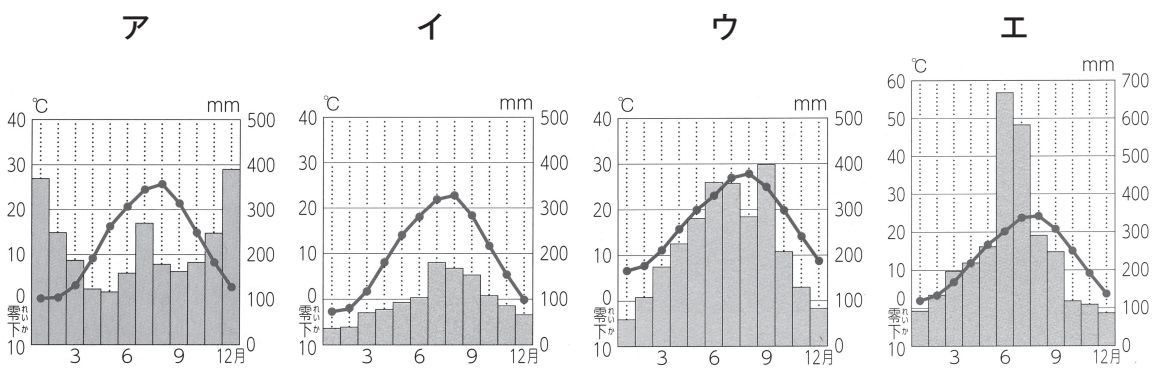


【資料】



問1 地図中の A の県庁所在地名を答えなさい。

問2 地図中の B は新潟県南魚沼市です。南魚沼市の雨温図として正しいものを次のア～エから選び、記号で答えなさい。



問3 資料は2025年日本国際博覧会の公式キャラクターの「ミャクミャク」です。2025年日本国際博覧会が開催された場所を、地図中のア～エから選び、記号で答えなさい。

(B) 次の地図を見て、あとの問いに答えなさい。

【地図】

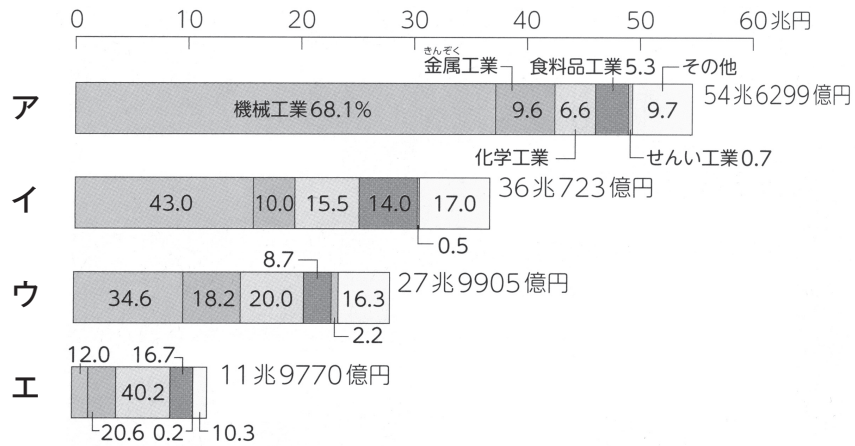


問 1 地図中の **A** 地方で行われている農業の工夫について述べた文として正しいものを、**ア～エ**から **1**つ選び、記号で答えなさい。

- ア** 高い気温や湿度のもとでよく育つさとうきびやマンゴーやパイナップルなどの生産がさかんです。
- イ** 夏でも涼しい気候を生かし、暑さに弱い乳牛を育てて牛乳を生産する酪農がさかんです。
- ウ** 山のすそ野に広がる草原を利用して、あか牛とよばれる肉牛の放牧がさかんです。
- エ** 日当たりのよい山の斜面を利用したみかんの栽培がさかんです。

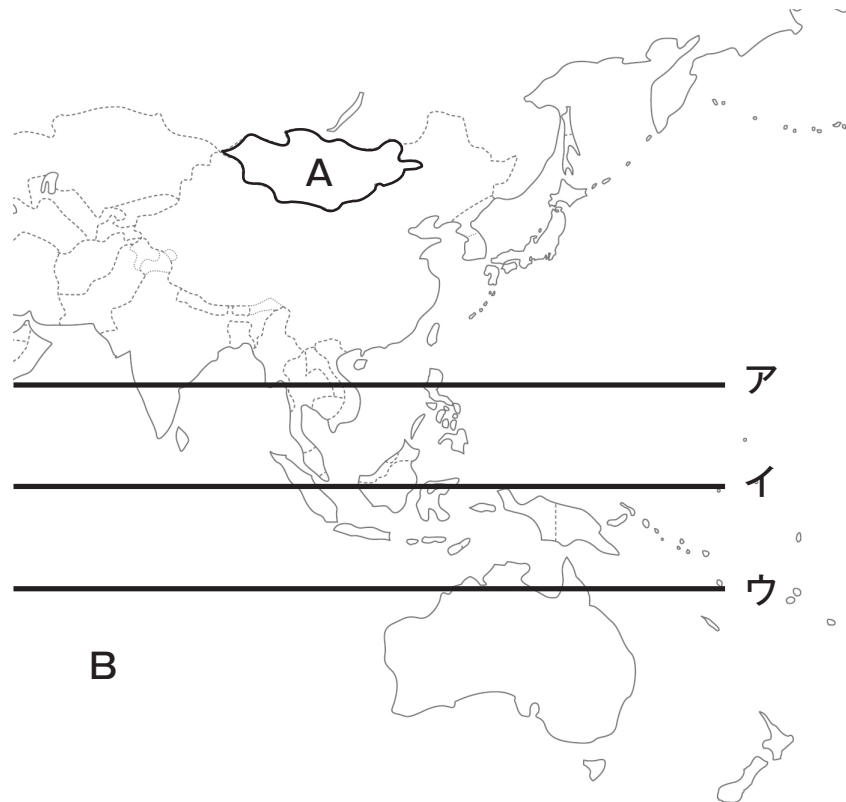
問2 次のグラフの**ア**～**エ**は、京葉工業地域・瀬戸内工業地域・中京工業地帯・京浜工業地帯のいずれかの工業製品出荷額の割合を示しています。

地図中**B**の中京工業地帯にあてはまるグラフを**ア**～**エ**から選び、記号で答えなさい。
また、そのように判断した理由を簡単に答えなさい。



(2020年 経済産業省)

(C) 次の地図を見て、あとの問いに答えなさい。



(浜島書店白地図より作成)

問 1 地図中の **A** の国名を答えなさい。

問 2 地図中の **B** の海洋の名前を答えなさい。

問 3 赤道を示す線を地図中の **ア**～**ウ**から選び、記号で答えなさい。

問 4 「中華人民共和国」について説明している文を、**ア**～**エ**から選び、記号で答えなさい。

ア 日本から見て西の方に位置する面積の広い国で、世界遺産である万里の長城が有名です。

イ 日本にとっても近い国の一つで、チマ・チョゴリという伝統的な衣装があります。

ウ アジア州の南に位置する国で、人口が多く、世界遺産のタージ・マハルが有名です。

エ 砂漠や険しい山岳地帯が多い石油輸出国です。国民のほとんどがイスラム教を信仰しています。

2 次の年表を見て、あとの問いに答えなさい。

時代	できごと
弥生	むらの指導者は、豊作をいのる祭りを行った。…………… ①
古墳	各地の豪族によって古墳がさかんにつくられた。…………… ②
飛鳥	中国の政治のしくみを取り入れて、様々な政治の改革が行われた。…… ③
奈良	聖武天皇が、仏教の力を借りて国を守ろうとした。…………… ④
平安	大陸の影響を受けながら、日本の風土や生活に合った文化が生まれた。… ⑤
鎌倉	源頼朝が征夷大將軍に任命され、鎌倉に幕府を開いた。…………… ⑥
室町	中国(明)との貿易が行われた。…………… ⑦
安土桃山	戦国大名が全国統一を目指した。…………… ⑧
江戸	幕府が貿易を制限し、外国の情報や貿易の利益を独占した。…………… ⑨
明治	明治政府は、富国強兵の政策を進めた。…………… ⑩
大正	第一次世界大戦に参戦した。…………… ⑪

問1 年表中の①について、次の【資料1】は、銅たくと、銅たくにえがかれた絵です。銅たくにえがかれた絵から読み取れる当時の生活について、あやまっているものを下のア～エから1つ選び、記号で答えなさい。

【資料1】



- ア 仏教を信仰していた。
- イ シカなどを狩っていた。
- ウ 高床の建物があつた。
- エ 弓矢を使用していた。


問2 年表中の②について、古墳の周りには次の写真のような、人や動物、家などをかたどった焼き物がかざられました。これを何といいますか。



問3 年表中の③について、この時代の政治の改革について説明した文としてあやまっているものを、次のア～エから1つ選び、記号で答えなさい。

- ア 聖徳太子が十七条の憲法を定め、政治を行う役人の心構えを示した。
- イ 小野妹子が、家がらにとられずに能力のある者を役人に取り立てるしくみをつくった。
- ウ 中大兄皇子と中臣鎌足が、大きな力をもつ豪族の蘇我氏を倒した。
- エ 8世紀の初め、中国にならって律令とよばれる法律がつくられた。

問4 年表中の④について、次の大仏がある聖武天皇が建てた寺の名前を答えなさい。



問5 年表中の⑤について、このころの貴族は次の絵のような屋敷に住んでいたと考えられています。このような建築様式を何といいますか。下のア～エから1つ選び、記号で答えなさい。



ア 五重塔 イ 書院造 ウ 環濠集落 エ 寝殿造

問6 年表中の⑥について、このころ、3代でとだえた源氏の将軍に代わって、北条氏が中心となって政治を行っていました。北条氏が代々受けついだ役職の名前を、次のア～エから1つ選び、記号で答えなさい。

ア 執権 イ 譜代 ウ 御家人 エ 公家

問7 年表中の⑦について、明との貿易を始めた人物【資料2】の名前と、その人物がつくった建物【資料3】の名前の組み合わせとして正しいものを、下のア～エから選び、記号で答えなさい。

【資料2】



【資料3】



	資料2	資料3
ア	足利義政	金閣
イ	足利義政	中尊寺金色堂
ウ	足利義満	金閣
エ	足利義満	中尊寺金色堂

問8 年表中の⑧について、全国統一を達成したのち、2度にわたって朝鮮に大軍を送った人物を、次のア～ウから1つ選び、記号で答えなさい。


ア 織田信長

イ 豊臣秀吉

ウ 徳川家康



問9 年表中の⑨について、次の絵は、この時代に長崎につくられた埋め立て地をえがいたものです。ここで貿易を行うことが許された国として正しいものを、次の1～4から1つ選び、数字で答えなさい。



1 スペイン 2 ポルトガル 3 イギリス 4 オランダ

問10 年表中の⑩について、明治政府が進めた富国強兵の政策の内容として、あやまっているものを次のア～エから1つ選び、記号で答えなさい。

ア 島根県に富岡製糸場をつくり、生糸をさかんに生産した。

イ 20才以上の男子全てに兵役の義務を定めた。

ウ 年貢に代わって、土地の価格に応じた地租という税金を取るようになった。

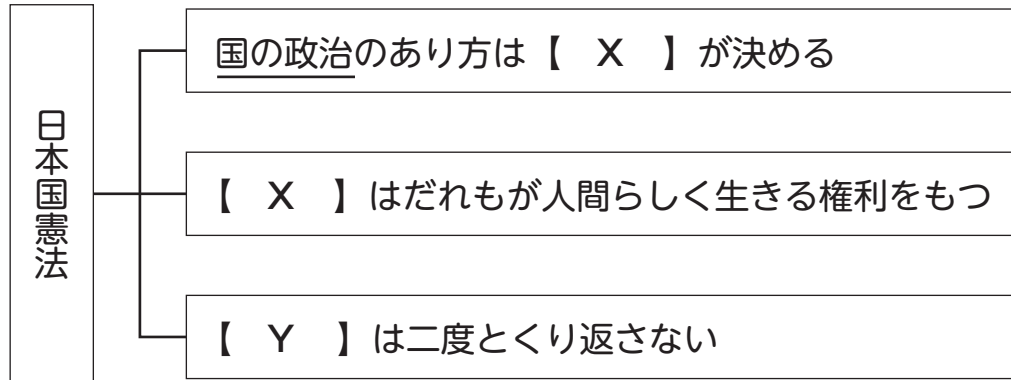
エ 欧米の進んだ技術や知識を取り入れるために、外国から技術者や学者を招いた。

問11 年表中の⑪について、第一次世界大戦後に国際社会の平和と安全を守るためにつくられた組織の名前を、漢字4文字で答えなさい。

3 次の問いに答えなさい。

(A) 次の図は、日本国憲法の三原則を表したものです。これを見て、あとの問いに答えなさい。

【図】



問1 【図】中の【 X 】、【 Y 】にあてはまる語句を、それぞれ漢字2文字で答えなさい。

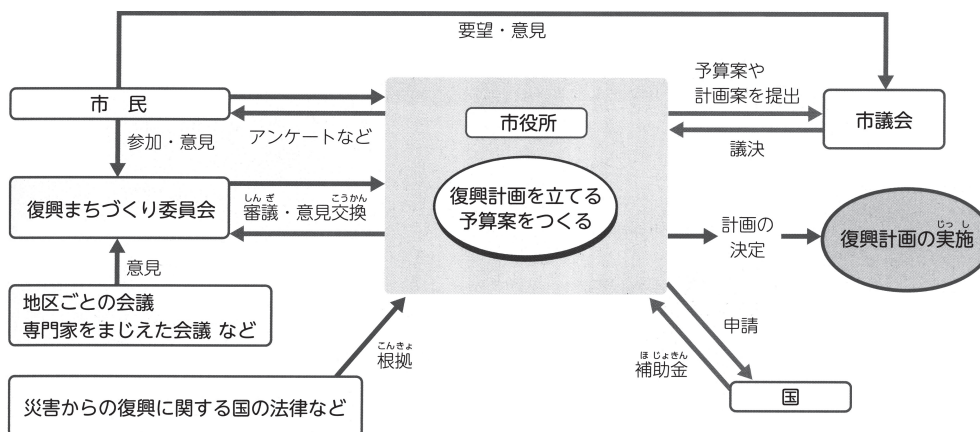
問2 昨年7月に参議院議員選挙が行われましたが、何歳以上の方が投票できますか。数字で答えなさい。

問3 【図】中の下線部について、国の政治を進める役割は立法・行政・司法に分けられ、それぞれの仕事を国会・内閣・裁判所が分担しています。このことについて説明した文としてあやまっているものを、次のア～エから1つ選び、記号で答えなさい。

- ア 国の政治の方針を決定するので、国会では衆議院と参議院の二つの議院で話し合い、慎重に決定するしくみになっている。
- イ 国民の選挙によって選ばれた内閣総理大臣が、国务大臣を任命して内閣をつくり、国民の暮らしを支える仕事をしている。
- ウ 裁判所は、人々の間で争いごとや犯罪が起こったときに、憲法や法律にもとづいて判断し、解決する仕事をしている。
- エ 国会・内閣・裁判所は、その役割を実行するとともに、おたがいの役割がきちんと実行できているかどうかを調べ、一つの機関に権力が集中しないようにしている。

(B) わたしたちの暮らしと社会の課題についての問いに答えなさい。

問1 次の図は、東日本大震災で大きな被害を受けた岩手県の釜石市の復興に向けた計画ができるまでを示したものです。この図を参考にして、復興計画ができるまでの説明としてふさわしいものを下のア～エから1つ選び、記号で答えなさい。



- ア 復興計画は、専門家の意見だけでつくられており、市民の意見は反映されなかった。
- イ 復興計画は市役所を中心につくられ、釜石市の予算だけで実施された。
- ウ 復興計画は、国の法律なども根拠にしてつくられた。
- エ 復興に向けてすぐ実行する必要があったので、市議会での議決は必要なかった。

問2 地域の問題を解決し、よりよい暮らしにつながる政治を地域住民の意思にもとづいて進めていくことを漢字4文字で何といいますか。

