

令和5年度 入学試験問題

社 会

九州国際大学附属中学校

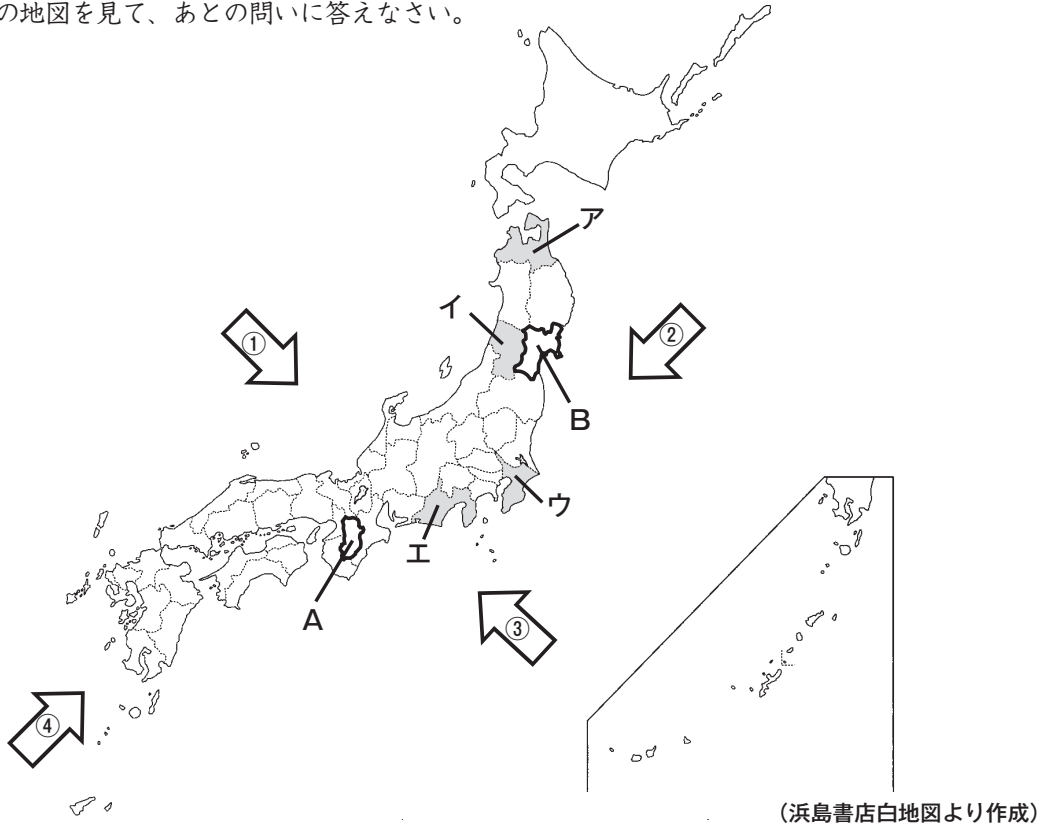
【注意事項】

- 1 開始合図のチャイムが鳴るまで、この問題用紙の中を見てはいけません。
- 2 開始合図のチャイムが鳴ったら、最初に解答用紙と問題用紙に受験番号・氏名を書きなさい。
- 3 試験時間は30分です。
- 4 解答はすべて、問題の指示にしたがって解答用紙に記入しなさい。
- 5 問題用紙で、印刷がはっきりしないところがあったら、静かに手をあげなさい。
- 6 答案ができあがっても、終了合図のチャイムが鳴るまで静かに着席していなさい。

受験 番号			氏 名	
----------	--	--	--------	--

1 次の問いに答えなさい。

(A) 次の地図を見て、あとの問いに答えなさい。

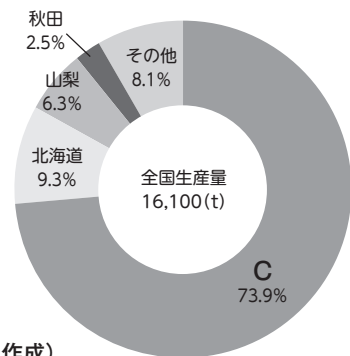


問1 地図中のAの県名を答えなさい。

問2 地図中のBの県庁所在地名を答えなさい。

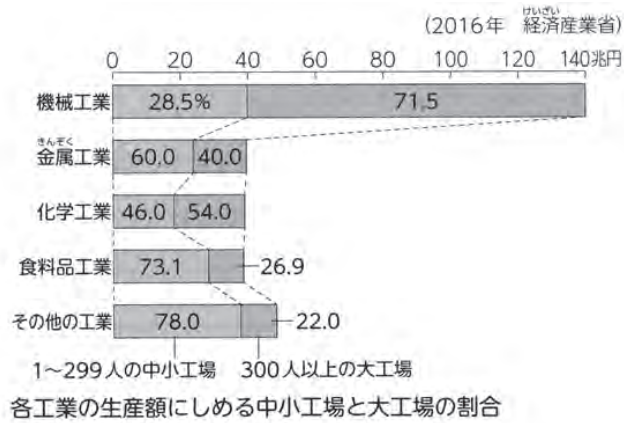
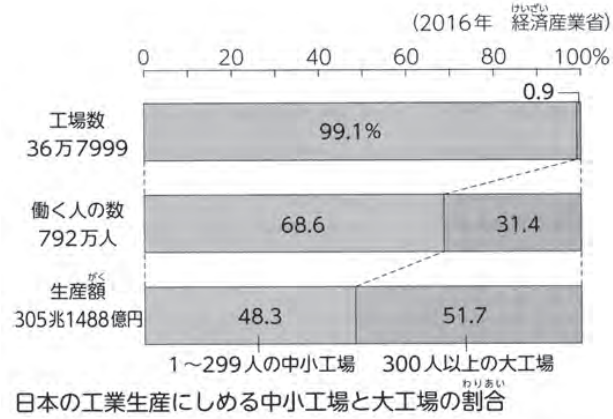
問3 冬にふく季節風の風の向きとしてふさわしいものを、地図中の矢印①～④から選び、記号で答えなさい。

問4 右のグラフは、2019年のおうとう（さくらんぼ）の生産量を都道府県別に表したものです。Cにあてはまる県名を答えなさい。また、Cの県の位置を地図中のA～Iから選び、記号で答えなさい。



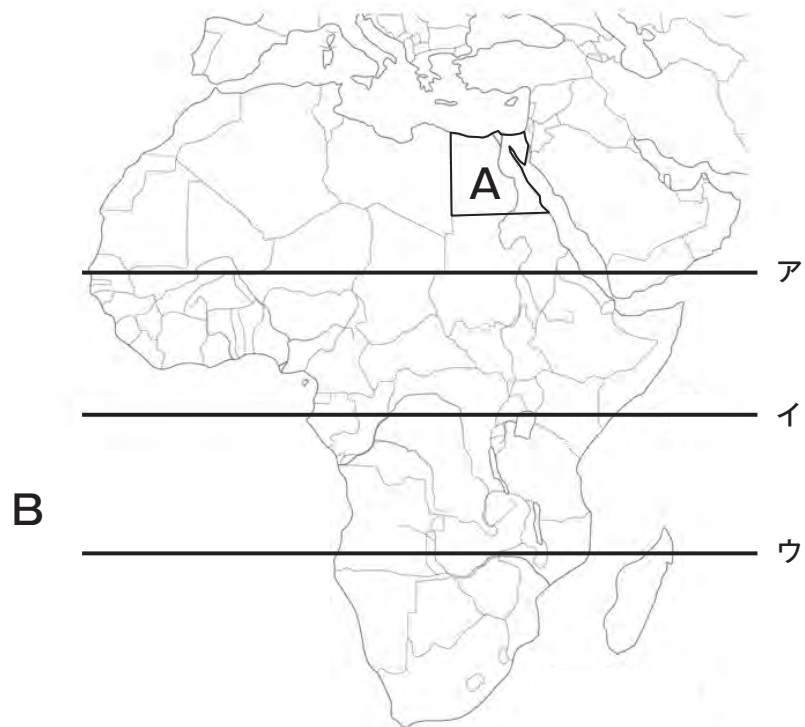
(農林水産省資料より作成)

問5 次のグラフを見て、グラフの内容として正しく説明している文を下のア～エから1つ選び、記号で答えなさい。



- ア 日本の工業では、食料品工業の生産額が最も多く、全体の73.1%をしめている。
- イ 工業のさかんな地域は海に近く、原料や部品を船で輸送している。
- ウ 日本にある工場の99%以上が中小工場で、生産額のほとんどをしめている。
- エ 機械工業の生産額は、約140兆円で、その多くを大工場がしめている。

(B) 次の地図を見て、あとの問いに答えなさい。



(浜島書店白地図より作成)

問1 地図中のAの国名を、次のア～エから選び、記号で答えなさい。

ア イギリス イ サウジアラビア ウ オーストラリア エ エジプト

問2 地図中のBの海の名前を、次のア～エから選び、記号で答えなさい。

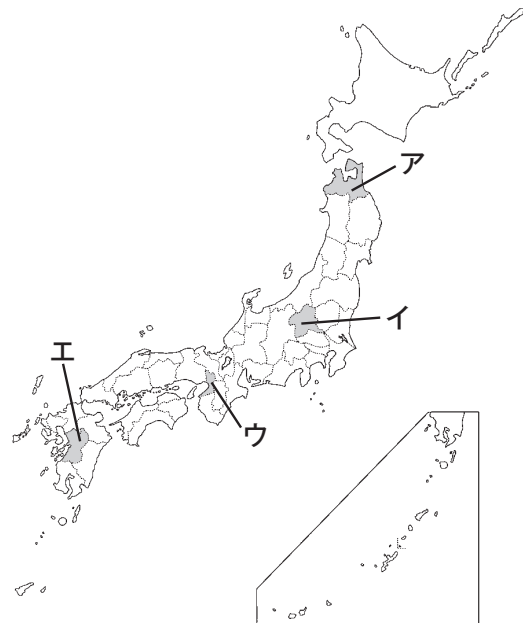
ア 太平洋 イ 大西洋 ウ インド洋 エ 地中海

問3 赤道を示す線を地図中のア～ウから選び、記号で答えなさい。

2 次の年表を見て、あとの問いに答えなさい。

時代	できごと
縄文	人々は ^{たてあな} 竪穴住居に住み、 ^か 狩りや漁をし、木の実などを採集して暮らす…… ①
弥生	邪馬台国の女王が魏に使いを送る …………… ②
古墳	各地の豪族が ^{ごうぞく} 前方後円墳をつくる
飛鳥	中大兄皇子と中臣鎌足により、大化の改新が行われる…………… ③
奈良	聖武天皇が、東大寺を建て大仏をつくる …………… ④
平安	平清盛が、政治に大きな影響力を持つ …………… ⑤
鎌倉	元が2度にわたって九州北部にせめてくる…………… ⑥
室町	足利義政が東山に銀閣を建てる …………… ⑦
戦国 安土桃山	織田信長により、全国統一が進む …………… ⑧
江戸	町人の文化が栄える …………… ⑨
明治	条約改正の ^{こうしゅう} 交渉を行う …………… ⑩
大正	第一次世界大戦が始まる …………… ⑪
昭和	戦後、人々の生活と権利を守るための法律が整えられる …………… ⑫
平成	東日本大震災が起こる

問1 年表中の①について、次の写真は、今から5500年前から1500年間にわたって、人々が暮らしていた三内丸山遺跡^{いせき}のものです。この遺跡がある県の位置を、地図上のア～エから選び、記号で答えなさい。



(浜島書店白地図より作成)

問2 年表中の②について、この女王の名前を答えなさい。

問3 年表中の③について、大化の改新が行われた目的を「天皇」の語句を使って答えなさい。

問4 年表中の④について、次の写真は、この時代に活躍した聖武天皇の持ち物や大仏の開眼式に使われた道具などが収められている建物です。この建物の名前を下のア～エから選び、記号で答えなさい。



ア 唐招提寺 イ ^{ろくめいかん} 鹿鳴館 ウ 正倉院 エ 国分寺

問5 年表中の⑤について、次の写真は、航海の守り神とされ平清盛たち平氏一族が厚く敬った神社です。この神社の名前を下のア～エから選び、記号で答えなさい。



ア ^{つるがおかはちまんぐう} 鶴岡八幡宮 イ ^{いつくしまじんじゃ} 厳島神社 ウ 平安神宮 エ 日光東照宮

問6 年表中の⑥について、次の資料は、鎌倉幕府が滅ぶきっかけとなった元との戦いを
えがいたものです。この戦いについて説明した文として正しいものを下のア～エから選
び、記号で答えなさい。



- ア この戦いで日本は、元軍に負け続け、九州の一部を占領された。
- イ この戦いでは、執権の源頼朝が御家人を集めて、元軍と戦った。
- ウ この戦いで活躍したが、土地をもらえず不満を持つ武士が多くいた。
- エ この戦いで活躍し、土地をもらい地方の有力武士となるものが出てきた。

問7 年表中の⑦について、この時代は、次の写真のような日本独自の建築様式が広がり
ました。このような部屋のつくりを何というか答えなさい。



問8 年表中の⑧について、この図は長篠の戦いの様子をえがいたものです。この戦いでは、
ある武器を効果的に使った戦法で、織田信長・徳川家康の連合軍が、武田軍の騎馬隊を
破りました。その武器を何というか答えなさい。



問9 年表中の⑨について、この時代の文化について説明した文としてあやまっているものを次のア～エから選び、記号で答えなさい。

- ア 観阿弥・世阿弥の父子が能を完成させた。
- イ 木版の技術を用いて、色あざやかな浮世絵が大量につくられた。
- ウ 松尾芭蕉は、自然をたくみによみこんだ味わい深い俳句を数多くつくった。
- エ 近松門左衛門は、町人の姿を生き生きとえがいた芝居の脚本を数多くつくった。

問10 年表中の⑩について、関税自主権を確立し、不平等条約の改正を達成した人物を次のア～エから選び、記号で答えなさい。

ア 板垣退助



イ 陸奥宗光



ウ 伊藤博文



エ 小村寿太郎



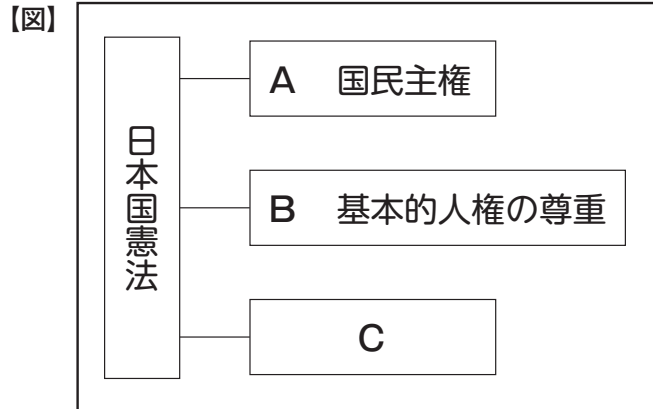
問11 年表中の⑪について、第一次世界大戦後に国際社会の平和と安全を守ろうとする組織がつくられました。これを何というか答えなさい。

問12 年表中の⑫について、次のア～エのできごとを年代の古い順にならべ、2番目にくるものを記号で答えなさい。

- ア 日米安全保障条約が結ばれた。
- イ アジアで初めて東京オリンピック・パラリンピックが開かれた。
- ウ 沖縄が日本に復帰した。
- エ 日本国憲法が公布された。

3 次の問いに答えなさい。

(A) 次の図は、日本国憲法の三原則を表したものです。これを見て、あとの問いに答えなさい。



問1 Aの国民主権に関して、2022年7月10日にある選挙の投開票が行われました。このことについて説明した次の文の空らんにあてはまる語句を入れなさい。

この選挙は【 】院のもので、3年ごとに議員の半数が改選されます。

問2 Bに関して、私たちの基本的人権を守るために様々な法律がつくられています。法律をつくるのはどの機関ですか。次のア～エから選び、記号で答えなさい。

ア 国会 イ 裁判所 ウ 内閣 エ 市役所

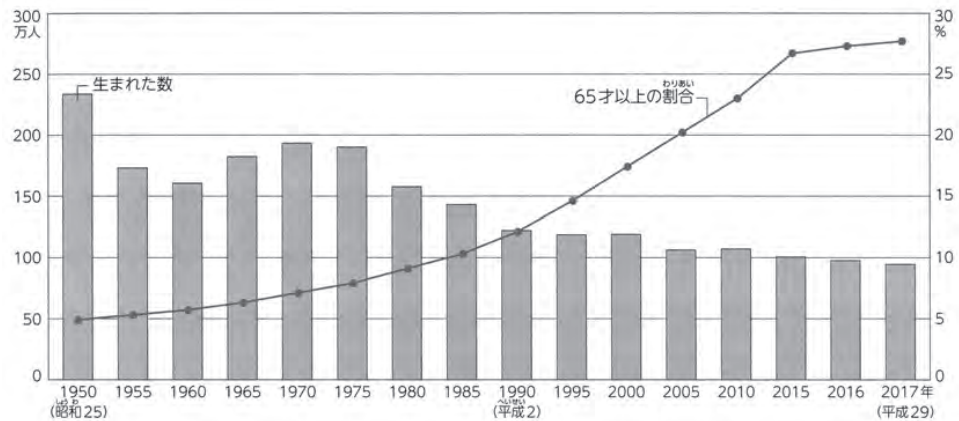
問3 図中のCにあてはまる語句を答えなさい。

(B) 日本の人口に関する次の問いに答えなさい。

問1 現在の日本は、人口が減少する社会となっています。人口の減少が暮らしにおよぼす影響としてあやまっているものを次のア～エから1つ選び、記号で答えなさい。

- ア 地域から学校や病院などが減っていく。
- イ 税金による地方自治体や国への収入が減っていく。
- ウ 鉄道やバスの便が増えていく。
- エ 高齢者だけの世帯が増えていく。

問2 次のグラフは、「生まれた子どもの数と、人口に占める65歳以上の高齢者の割合」(総務省、厚生労働省)を表したものです。このグラフから読みとれる内容としてふさわしいものを下のア～オからすべて選び、記号で答えなさい。



- ア 2017年に生まれた子どもの数は、1970年のおよそ4分の1になっている。
- イ 2015年に生まれた子どもの数は、約10万人である。
- ウ 65歳以上の人の数は、このグラフからは分からない。
- エ 65歳以上の人の割合は、増え続けている。
- オ 1950年以降、生まれた数は減り続けている。