

令和4年度 入学試験問題

社 会

九州国際大学附属中学校

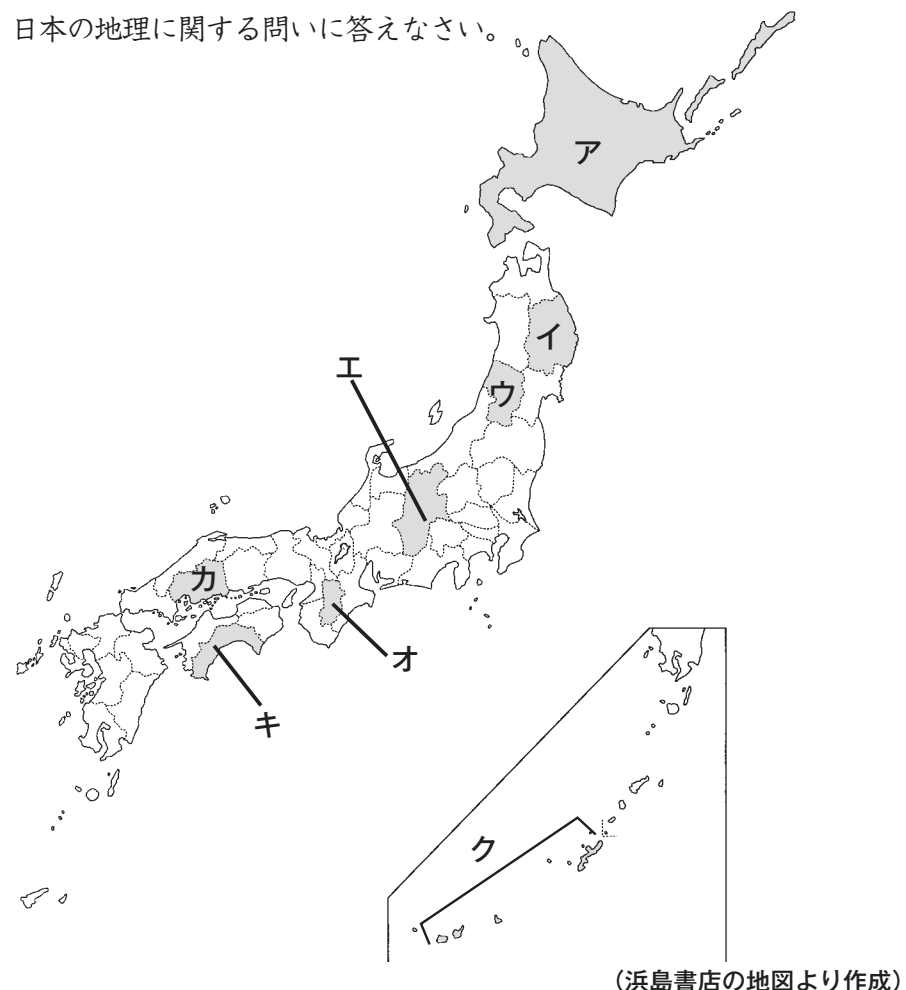
【注意事項】

- 1 開始合図のチャイムが鳴るまで、この問題用紙の中を見てはいけません。
- 2 開始合図のチャイムが鳴ったら、最初に解答用紙と問題用紙に受験番号・氏名を書きなさい。
- 3 試験時間は30分です。
- 4 解答はすべて、問題の指示にしたがって解答用紙に記入しなさい。
- 5 問題用紙で、印刷がはっきりしないところがあったら、静かに手をあげなさい。
- 6 答案ができあがっても、終了合図のチャイムが鳴るまで静かに着席していなさい。

受験 番号				氏 名	
----------	--	--	--	--------	--

1 次の問いに答えなさい。

問1 次の地図を見て、日本の地理に関する問いに答えなさい。



(浜島書店の地図より作成)

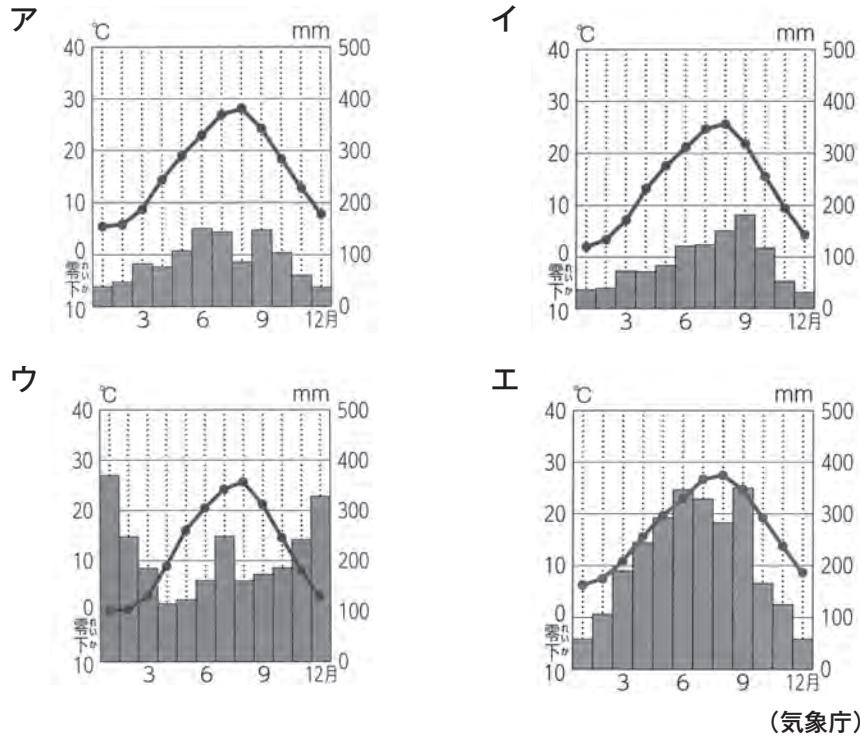
- (1) 地図中のウの県名を答えなさい。
- (2) 地図中のア～クのうち、都道府県の名前と都道府県庁所在地の名前が異なるものを、すべて選び、記号で答えなさい。
- (3) 次のグラフは2018年のぶどうとレタスの生産量を都道府県別に表したものです。2つのグラフのAには同じ都道府県があてはまります。その都道府県を、地図中のア～クから選び、記号で答えなさい。

		北海道 3.0		大阪 2.8	
ぶどう (17万 t)	山梨	A	山形	岡山	福岡
	23.9%	17.8	9.2	8.8	4.2
					その他
					30.3
レタス (59万 t)	A	茨城	群馬	長崎	兵庫
	35.7%	15.3	7.9	5.8	4.9
				静岡	その他
				4.2	26.2

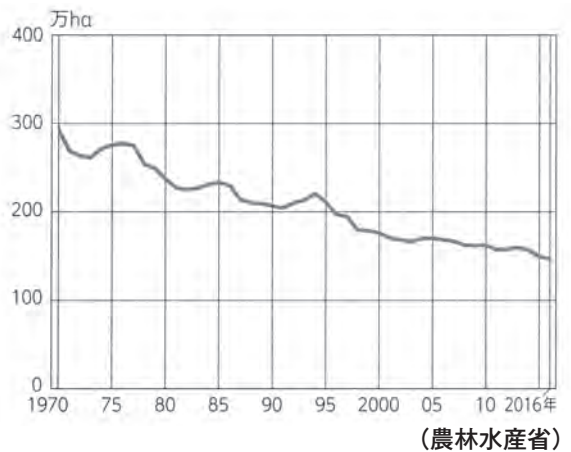
(農林水産省資料)

問2 日本の気候・農業・漁業について、あとの問いに答えなさい。

(1) 次の4つのグラフのうち、米の生産がさかんな新潟県の都市の気温と降水量を表したものはどれですか。ア～エから選び、記号で答えなさい。



(2) 右のグラフは、日本の米の^{さくつけ}作付面積の変化を示したものです。次のア～エの中で、このグラフから読みとれる内容としてふさわしいものを選び、記号で答えなさい。



ア 1970年から2016年の間で、米の作付面積はほぼ2倍に増えている。

イ 1970年から2016年の間で、米の作付面積は毎年減っている。

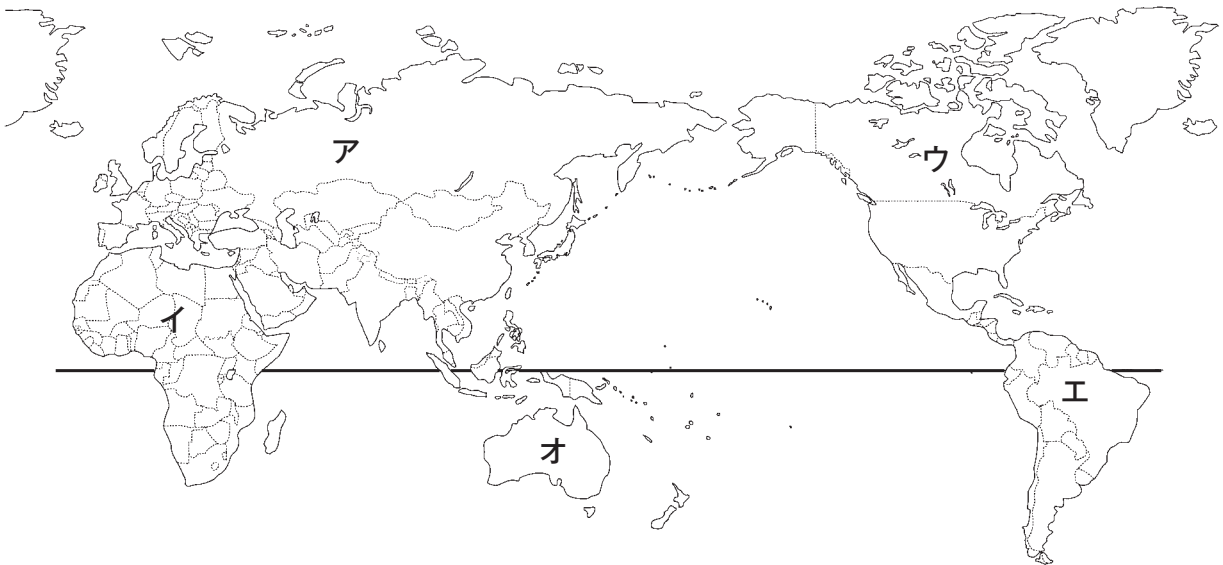
ウ 1970年から2016年の間で、米の作付面積はおよそ200万ha減っている。

エ 1970年から2016年の間で、米の作付面積がほぼ半分になっている。

(3) 日本近海でとれる魚の量が減ってきているため、持続可能な水産業をめざして、日本の水産業に関わる人々がいろいろな水産資源の管理に取り組んでいます。そのひとつとして「さいばい漁業」があります。次のア～エの中で、「さいばい漁業」について正しく説明しているものを選び、記号で答えなさい。

- ア 魚のたまごから稚魚^{ちぎよ}を育てて海に放流し、成長した魚をとること。
- イ 魚のたまごから成魚になるまで育て、出荷すること。
- ウ 遠くの海に魚をとりに行くこと。
- エ 大きく育った魚を外国から買い、水そうに入れて市場で売ること。

問3 次の地図を見て、世界の地理に関する問いに答えなさい。



(浜島書店の地図より作成)

(1) 2024年のオリンピックの開催国であるフランスは、どの大陸にありますか。地図中のア～オから選び、記号で答えなさい。

(2) アメリカ合衆国の東に広がる海の名前を次のア～エから選び、記号で答えなさい。

- ア 太平洋 イ 大西洋 ウ 東シナ海 エ オホーツク海

(3) 地図中の太い横線は、0度の緯線です。この線を一般的に何といいますか。漢字2文字で答えなさい。

2 次の年表を見て、あとの問いに答えなさい。

時代	できごと
古墳	各地に古墳がつくられた。…………… ①
飛鳥	天皇中心の国づくりを目指した政治の改革が進められた。…………… ②
奈良	710年に奈良に都がうつされた。…………… ③
平安	日本独自の文化が生まれた。…………… ④
鎌倉	源氏の将軍がとだえたあと、朝廷が幕府をたおそうと兵をあげた。…… ⑤
室町	足利義満が、中国との貿易を行って、たくさんの富をたくわえた。
戦国 安土桃山	豊臣秀吉が全国を統一した。…………… ⑥
江戸	江戸時代が約260年間続いた。…………… ⑦
明治	しへい しゅうぞう 紙幣の肖像に用いられている人物が活躍した。…………… ⑧
大正	
昭和	戦後に選挙権が拡大された。…………… ⑨

問1 年表中の①について、世界遺産に登録されている大阪府堺市にある日本で最大の前方後円墳を、次のア～エから選び、記号で答えなさい。

ア え た ふなやま 江田船山古墳 イ だいせん 大仙古墳 ウ いなりやま 稲荷山古墳 エ はしはか 箸墓古墳

問2 年表中の②について、次のア～エの中から、飛鳥時代に行われた政治の改革の説明としてふさわしいものを選び、記号で答えなさい。

- ア 聖徳太子は、家がらによって役人にとりたてるしくみとして、かんい冠位十二階をつくった。
- イ 聖徳太子は、中国の進んだ政治のしくみや文化を取り入れようと、小野妹子らをけんとうし遣唐使として送った。
- ウ 中大兄皇子は蘇我氏と協力して中臣鎌足をたおし、大化の改新を行った。
- エ 大化の改新のあと、すべての土地と人民を天皇が治める政治のしくみが整えられた。

問3 年表中の③について、この都は、中国の長安にならってつくられました。この都の名前を答えなさい。

問4 年表中の④について、次のア～エの中から、この時代の文化についての説明としてふさわしいものを選び、記号で答えなさい。

- ア 紫式部は、かな文字をつかって「源氏物語」という作品をつくった。
- イ 清少納言は、かな文字をつかって人形浄瑠璃じようるりの脚本を数多く残した。
- ウ 天皇や貴族、農民、兵士などがよんだうたを集めた「万葉集」がつくられた。
- エ 「五七五」の形式で気持ちや季節を表す和歌が貴族の間で流行した。

問5 年表中の⑤について、次の資料は、源頼朝の妻の北条政子が行った演説です。空らんにあてはまる語句を答えなさい。なお、空らんにはすべて同じ語句が入ります。

今はなき頼朝どのが平氏をほろぼして幕府を開いてから、あなたたちにあたえた□□は、山よりも高く、海よりも深いものである。その□□に報いようと思う者は、力を合わせて敵軍をうち、幕府を守りましょう。



問6 年表中の⑥について、次のア～エの中から、豊臣秀吉が行ったこととしてあやまっているものを選び、記号で答えなさい。

- ア 大阪城を築いて政治の拠点とした。
- イ 百姓から刀や鉄砲などの武器を取り上げた。
- ウ 2度にわたって朝鮮に大軍を送った。
- エ 安土城の城下町では、商人の自由な営業を認めた。

問7 年表中の⑦について、江戸時代について説明した文としてふさわしいものを、次のア～エから1つ選び、記号で答えなさい。

- ア 徳川家康は、大名が領地と江戸を1年おきに行き来する参勤交代の制度を定めた。
- イ 江戸幕府は、鎖国を行い、外国との貿易を全く行わなかった。
- ウ 農村では、新田開発が行われたり、備中ぐわなどの新しい農具が普及したりしたことで生産が高まった。
- エ 17世紀の中ごろ、江戸では大塩平八郎が、ききんで苦しむ人々を役人や商人が救おうとしないことに抗議こうぎして兵をあげた。

問8 年表中の⑧について、2024年度から使われる1万円札の肖像には渋沢栄一が使われます。

(1) 渋沢栄一の肖像画(写真)として正しいものを、次のア～エから選び、記号で答えなさい。

ア

イ

ウ

エ



(2) 渋沢栄一の説明としてふさわしいものを、次のア～エから選び、記号で答えなさい。

ア

私は、日本で最初の銀行のほか、500余りの会社の設立にたずさわ
り、日本の経済発展に力をつく
しました。また、めぐまれない人々
を助ける社会福祉事業にも熱心
に取り組みました。

イ

私は、「学問のすゝめ」という本
を書いて、ヒトは生まれながらに
して平等であり、学問をすること
で身を立てていくべきだと主張し、
多くの人々に影響を与えました。

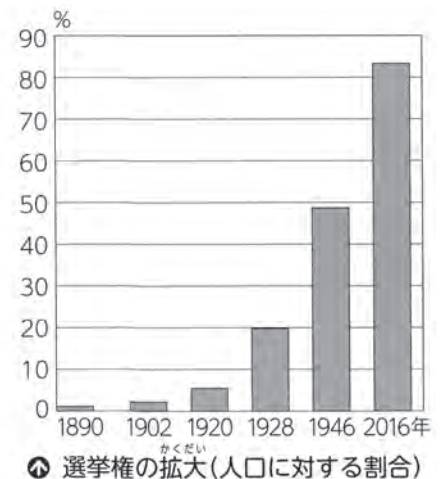
ウ

私は、アメリカの医学研究所の
所員として南米やアフリカを訪れ、
黄熱という原因不明の感染症かんせんしやうの調
査・研究に取り組みましたが、ガー
ナで黄熱に感染し、死にました。

エ

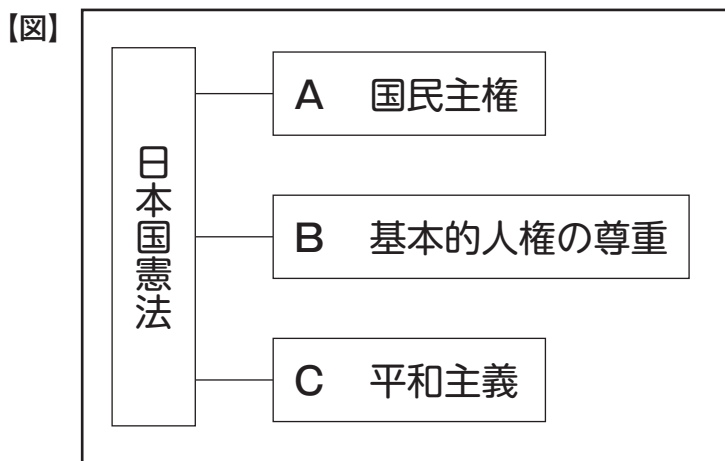
私は、薩摩藩と長州藩を中心とし
た一部の者が政治を動かしているこ
とを批判し、選挙にもとづく議
会を開いて政治を行うべきだと主張
する意見書を政府に提出しました。
また、1881年に自由党をつくり
ました。

問9 年表中の⑨について、右のグラフから、1946年に選挙権をもつ人の割合が1928年と比べて大きくなっていることがわかります。その理由を説明しなさい。

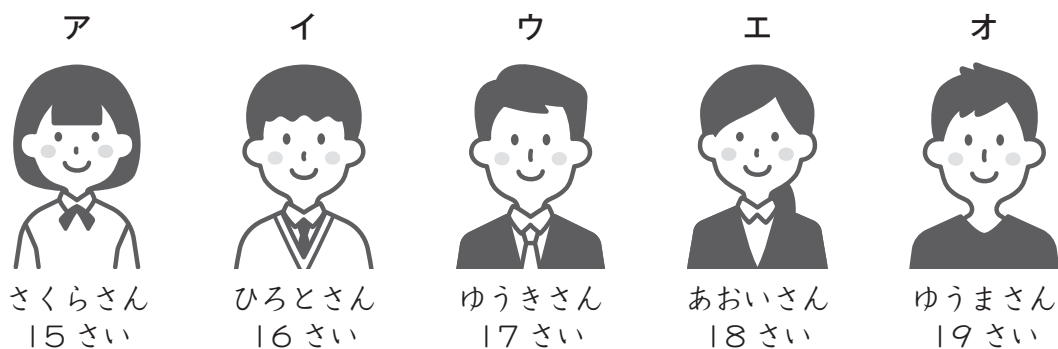


3 次の問いに答えなさい。

(A) 次の図は、日本国憲法の三原則を表したものです。これを見て、あとの問いに答えなさい。



問1 日本国憲法では、Aのように国民主権が定められ、国民には選挙権が認められています。次のア～オの中で、現在、選挙権をもっている人をすべて選び、記号で答えなさい。



問2 Bの基本的人権の尊重に関して、このごろは次の資料のように、すべての人が使いやすいように工夫された容器が使われるようになりました。これは デザインとよばれています。 にあてはまる語句を答えなさい。



問3 Cの平和主義について、わが国では1954年に国の平和と独立を守ることを主な目的としてある組織がつけられました。この組織は、国の防衛・災害時の現地での救援や救助・国際協力などをおこなっています。この組織の名前を漢字で答えなさい。

(B) 日本の政治について、あとの問いに答えなさい。

問1 次のア～エの中から、選挙で選ばれた議員が集まって話し合い、法律や国の予算、条約の承認など政治の方針を決める重要な仕事を担当する機関を選び、記号で答えなさい。

ア 市役所 イ 県庁 ウ 内閣 エ 国会

問2 日本の政治は、内閣のもとに、さまざまな府・省・庁などが置かれ仕事を分担しています。次のア～エの中から、「天気予報」を担当する機関を選び、記号で答えなさい。

ア 環境省 イ 防衛省 ウ 国土交通省 エ 文部科学省